

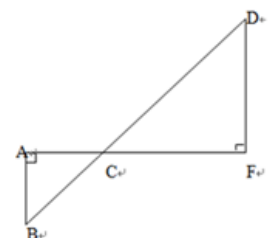
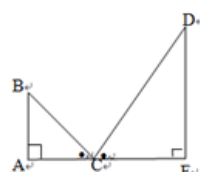
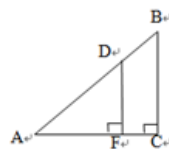
簡易測量學習單 _____ 班 _____ 組 組員：

任務一、壯中之塔是壯中的精神指標，身為壯中人責無旁貸應知道它究竟有多高？

(1)在解題過程中，你使用哪些工具輔助？

(2)請畫出算法示意圖

(3)求出高度?(需寫出計算過程)



簡易測量學習單 _____ 班 _____ 組 組員：

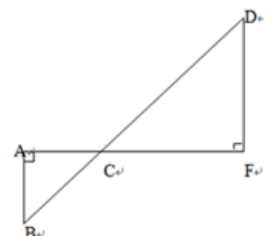
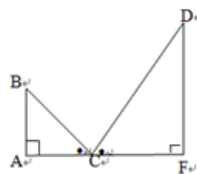
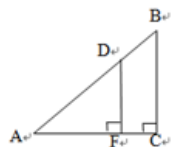
任務二、莊園中最令人遐想的的就是操場中的草坪，你知道它有多寬嗎？



(1) 在解題過程中，你使用哪些工具輔助？

(2) 請畫出算法示意圖

(3) 求出寬度？(需寫出計算過程)



簡易測量學習單 _____班_____組 組員：

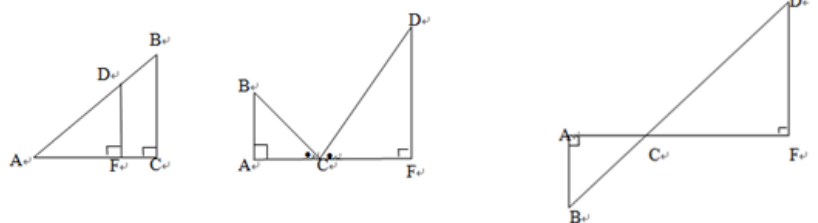
任務三、樂群樓旁漂亮的牆面上，彩繪著美麗繽紛的意象圖騰，它有個別名叫『萌』，你可知道這面牆有多高嗎？

(1)在解題過程中，使用哪些工具輔助？



(2)請畫出算法示意圖

(3)求出高度?(需寫出計算過程)



簡易測量學習單 _____ 班 _____ 組 組員：

任務四、球場上的爭霸，你是灌籃高手!!

要當高手當然得先知籃球架有多高？



(1)在解題過程中，你使用哪些工具輔助？

(2)請畫出算法示意圖

(3)求出高度?(需寫出計算過程)

